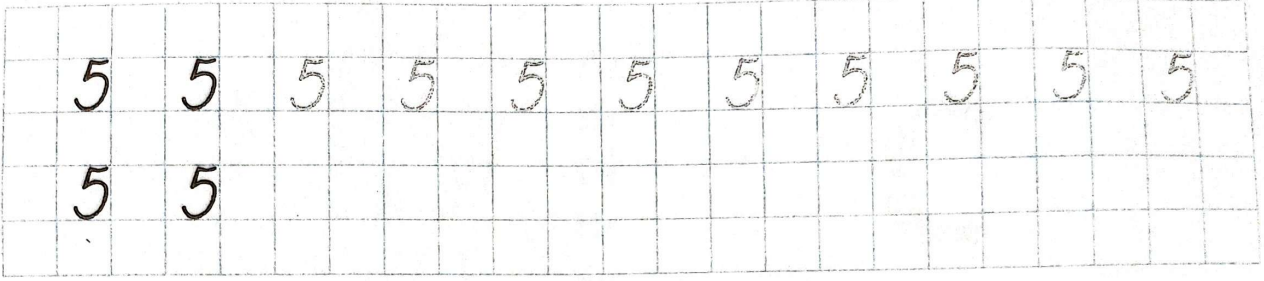



ТЕМА 10. Число 5. Цифра 5

1





2

?

| | |
|-----------|-----------|
| $5 - 2 =$ | $2 + 3 =$ |
| $3 + 2 =$ | $5 - 3 =$ |
| $5 - 4 =$ | $1 + 4 =$ |
| $4 + 1 =$ | $4 - 1 =$ |
| $5 - 1 =$ | $3 + 1 =$ |

3

Сосчитай, сколько стоит каждая игрушка, и запиши её стоимость в квадратиках.



ЦЕНА:

Мишка рублей. Пирамидка рубля. Зайчик рубля.