





И Л О Ц



Р П Ц Е Е





Я А Ц П Л



И П А Ц Т

Составь два букета чтобы в каждом было по 10 цветов.



У Дружка в каждой руке по пять цветных палочек. Догадайся сколько всего палочек у Дружка. Запиши пример.

$$\square + \square = \square$$



Решь примеры, впиши ответы в квадратики.

$6 + 2 = \square$

$3 + 7 = \square$

$5 + 2 = \square$

$2 + 7 = \square$

$1 + 5 = \square$

$6 - 4 = \square$

$4 + 3 = \square$

$8 - 2 = \square$

$5 - 1 = \square$

$9 - 2 = \square$

$7 - 5 = \square$

$10 - 3 = \square$