




РАЗБЕЙ
ФИГУРЫ
НА 2
ГРУППЫ:



? ЧТО УЗНАЛИ. ЧЕМУ НАУЧИЛИСЬ

1. У Веры было 10 р. Сколько рублей было у Люды, если у неё было на 2 р. меньше, чем у Веры?

Что известно из условия задачи? Что нужно узнать? Реши задачу.

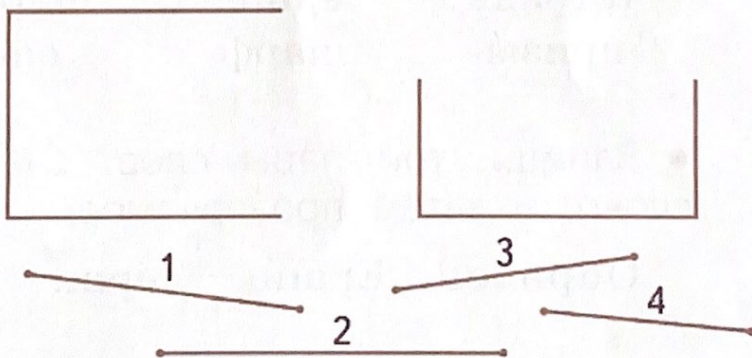
2. У продавца было 12 книг. Утром он продал 2 книги, а днём ещё 7 книг. Сколько книг осталось у продавца?

3. $3 + 10 \bigcirc 15$ | $6 + 4 \bigcirc 11$ | $9 - 1 \bigcirc 9$
 $9 - 4 \bigcirc 5$ | $8 + 3 \bigcirc 11$ | $8 + 2 \bigcirc 8$

4. $7 + 3 - 9$ $10 - 7 + 8$ $14 - 10 + 7$
 $8 - 2 + 4$ $12 - 2 - 6$ $18 - 10 + 6$

5. $8 \bigcirc 3 \bigcirc 2 = 7$ $10 \bigcirc 4 \bigcirc 7 = 13$
 $9 \bigcirc 6 \bigcirc 5 = 10$ $10 \bigcirc 3 \bigcirc 8 = 15$

6. Медвежонок хочет починить две рамки для семейных фотографий. Помоги ему выбрать нужные для этого планки.



7. Степану 10 лет. Сколько лет его сестре, если она на 3 года старше?