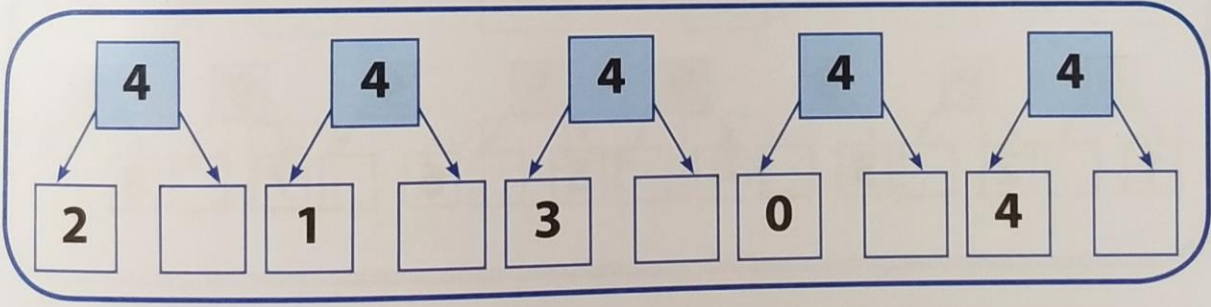


Имя, фамилия _____

















69. Впиши в клеточки знаки $+$ или $-$.

8	<input type="text"/>	1	=	9	9	<input type="text"/>	3	=	6	2	<input type="text"/>	6	=	8
7	<input type="text"/>	3	=	4	2	<input type="text"/>	7	=	9	9	<input type="text"/>	4	=	5
2	<input type="text"/>	4	=	6	9	<input type="text"/>	5	=	4	4	<input type="text"/>	4	=	8
7	<input type="text"/>	5	=	2	1	<input type="text"/>	8	=	9	8	<input type="text"/>	3	=	5

70. Какие пропущены числа? Вставь нужные цифры.



78. Определи: какие числа спрятались под картинками? Запиши нужные цифры в пустые клеточки.

 + 3 = 5	 <input type="text"/>	 + 4 = 9	 <input type="text"/>
9 -  = 6	 <input type="text"/>	7 -  = 6	 <input type="text"/>
 + 2 = 7	 <input type="text"/>	 + 6 = 10	 <input type="text"/>
8 -  = 4	 <input type="text"/>	10 -  = 7	 <input type="text"/>